



ΘΕΜΑ 2

2.1

Αντιστοιχίστε τις παρακάτω κάρτες επέκτασης με το είδος των καλωδίων που συνδέονται στις υποδοχές που έχουν.



Μονάδες 6

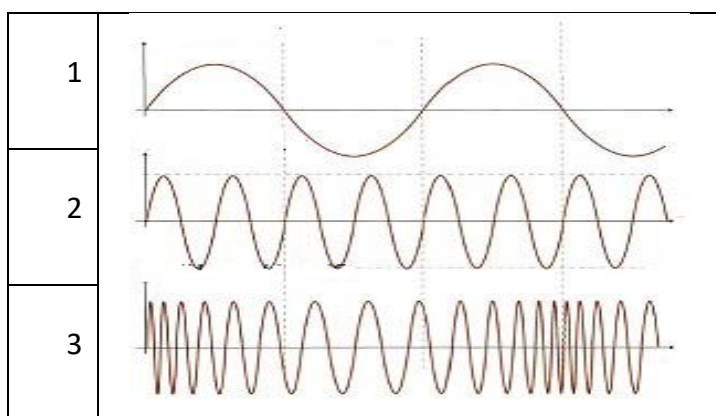
2.2

Ένας σκληρός δίσκος έχει επιλογή να συνδεθεί σε ένα υπολογιστικό σύστημα μέσω υποδοχών USB, SATA και eSATA. Σε ποιες περιπτώσεις θεωρείται ο δίσκος εξωτερικός και σε ποιες εσωτερικός και γιατί;

Μονάδες 10

2.3

Στο παρακάτω σχήμα παρουσιάζονται τρεις κυματομορφές σημάτων και ένας τρόπος διαμόρφωσης φέροντος σήματος.



Ποιο σήμα αντιστοιχεί στο Φέρον, ποιο στο Διαμορφώνον και ποιο στο Διαμορφωμένο;

Μονάδες 9